



Pour valider cette ceinture Jaune , mes objectifs sont :	Pour m'entraîner :
Je sais écrire des nombres en lettres.	n°1 et 2
Je connais le vocabulaire des fraction.	n°3
Je sais faire le lien entre les fractions et leur représentation dessinée.	n°4 et 5
Et en plus... je maîtrise toujours les compétences des ceintures précédentes !	

Exercice 1 :

Écrire les nombres suivants en chiffres :

- ☞ Trois-cent-vingt-cinq :
- ☞ Quatre-mille-cinq-trente-deux :
- ☞ Trente-mille-six-cent-quatre-vingt-sept :
- ☞ Soixante-sept-mille-six-cent-quatre-vingt-onze :
- ☞ Cinq-cent-trente-sept-mille-cinq-cent-soixante-dix :
- ☞ Cinq-cent-quarante-sept-mille-trois-cent-quarante-huit :
- ☞ Neuf-millions-six-cent-quatre-vingt-dix-neuf-mille-six-cent-quatre-vingts :
- ☞ Quatre-millions-neuf-cent-vingt-neuf-mille-neuf-cent-quatre-vingt-douze :
- ☞ Quatre-millions-six-cent-mille :
- ☞ Soixante-millions-quatre-cent-deux-mille-trois-cents :

Exercice 2 :

Écrire les nombres suivants en lettres :

- ☞ 458 :
- ☞ 2 400 :
- ☞ 2 403 :
- ☞ 95 780 :
- ☞ 95 782 :
- ☞ 3 805 100 :
- ☞ 7 000 000 009 :
- ☞ 412 936 :
- ☞ 123 456 :
- ☞ 78 020 :

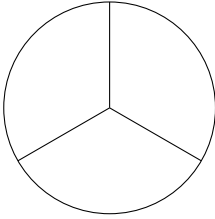
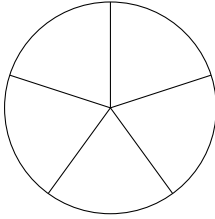
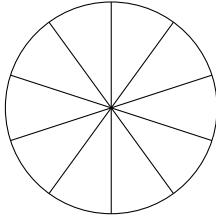
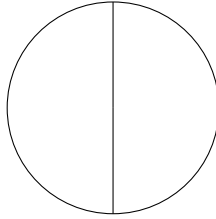
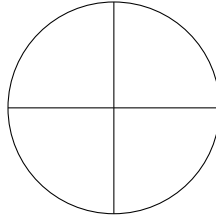
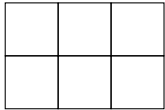
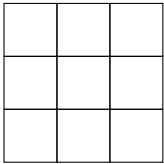

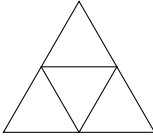
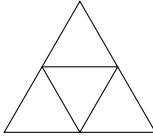
Exercice 3 :

Complète avec le bon vocabulaire :

- ☞ Dans la fraction $\frac{3}{4}$: 3 est le
- ☞ Dans la fraction $\frac{2}{3}$: 3 est le
- ☞ Dans la fraction $\frac{1}{25}$: 25 est le
- ☞ Dans la fraction $\frac{950}{4\ 782}$: 950 est le

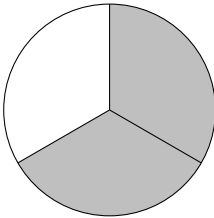
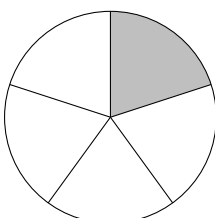
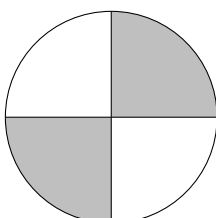
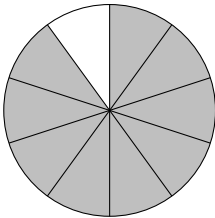
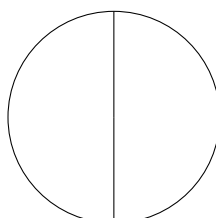
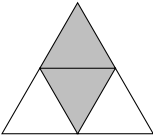

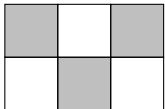

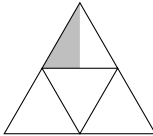
**Exercice 4 :**

Colorie la proportion correspondant à la fraction :

				
$\frac{1}{3}$	$\frac{3}{5}$	$\frac{4}{10}$	$\frac{2}{2}$	$\frac{3}{4}$
				
$\frac{2}{6}$	$\frac{1}{3}$	$\frac{4}{5}$	$\frac{3}{4}$	1

Exercice 5 :

Donne la fraction correspondant à la zone coloriée :

				
.....
				
.....