

## Séquence 4

### **Leçon n°1 - Géométrie : Trigonométrie**

Notions à connaître :		Page(s) :
Les différents côtés d'un triangle rectangle		2
Les formules de sinus, cosinus et tangente		2
La méthode pour calculer une longueur avec la trigonométrie		4

Trace écrite : **Carte mentale n°5** : « **Trigonométrie** », parties « Côtés d'un triangle » et « Calculer une longueur ».

Code	Automatismes à maîtriser :	Exercices :	Page(s) :
G03	<input type="checkbox"/> Reconnaître les différentes longueurs d'un triangle rectangle	1 à 3	3
G04	<input type="checkbox"/> Calculer la longueur d'un côté avec la trigonométrie	4 à 8	4 à 6

### **Leçon n°2 - Nombres et calcul : Calcul littéral**

Notions à connaître :		Page(s) :
Formules de distributivité simple		7
Formule de distributivité double		7

Trace écrite : **Carte mentale n°4** : « **Calcul littéral** », partie « Distributivité ».

Code	Automatismes à maîtriser :	Exercices :	Page(s) :
N11	<input type="checkbox"/> Utiliser la distributivité simple	9 à 14	8
N12	<input type="checkbox"/> Utiliser la distributivité double	15 à 16	9
N13	<input type="checkbox"/> ( <i>Approfondissement</i> ) Utiliser les identités remarquables pour distribuer	17	9

### **Leçon n°3 - Données : Statistiques**

Notions à connaître :		Page(s) :
Les définitions d' <b>effectif</b> et de <b>fréquence</b>		11
La formule de calcul d'une fréquence		11
La propriété sur la somme des fréquences		11
La formule de calcul d'une moyenne simple		11

Trace écrite : **Carte mentale n°6** : « **Statistiques** », parties « Fréquences » et « Moyennes ».

Code	Automatismes à maîtriser :	Exercices :	Page(s) :
D06	<input type="checkbox"/> Compléter un tableau de fréquences	18 à 22	12 à 13
D07	<input type="checkbox"/> Calculer une moyenne simple	23 à 25	14

### **Mais aussi...**

Tâche complexe : Carrés bordés ..... Page(s) 10

Vers le DNB : n°2 Polynésie Juin 2011 + n°7 Métropole Septembre 2018 ..... Page(s) 15-16

### **Automatismes à réviser :**

N10 : Traduire un programme de calcul par une expression littérale ..... Voir séquence 3

G01 : Pythagore sens direct pour calculer une longueur ..... Voir séquence 1

D05 : Calculer une augmentation ou une réduction ..... Voir séquence 3

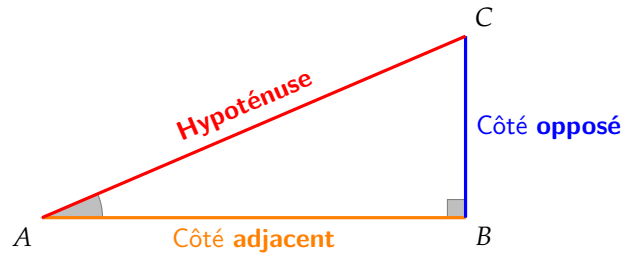
## Leçon n°1 : Trigonométrie

### A) Résumé de l'introduction de la séquence précédente...

☞ Dans un triangle rectangle (ou un escalier), il y a un lien entre **la tangente (la pente)** et **l'angle** formés par ce triangle (cet escalier).

#### ☞ Définition 1 : Vocabulaire du triangle rectangle

Dans un triangle rectangle, si on considère un des deux angles aigus (ici l'angle  $\widehat{BAC}$ ), on peut alors nommer l'ensemble des côtés du triangle ainsi :



☞ On calcule la **tangente** d'un angle avec la formule :  $\frac{\text{Côté opposé}}{\text{Côté adjacent}}$

☞ Sur la calculatrice :

- ☛ La touche **tan** permet de passer de **la mesure de l'angle** à **la valeur de la tangente** ;
- ☛ La touche **arctan** ou **tan<sup>-1</sup>** permet de faire le contraire.

☞ Question : Que peut-on faire si on a une **autre paire de valeurs** (par exemple *hypoténuse* et *côté opposé*) ?

### B) Sinus, cosinus et tangente

#### ☞ Définition 2 : Les formules de trigonométrie

Dans un triangle rectangle :

☞ Le **sinus** d'un angle aigu est le quotient :  $\frac{\text{Côté opposé}}{\text{Hypoténuse}} \left( S = \frac{O}{H} \right)$

☞ Le **cosinus** d'un angle aigu est le quotient :  $\frac{\text{Côté adjacent}}{\text{Hypoténuse}} \left( C = \frac{A}{H} \right)$

☞ La **tangente** d'un angle aigu est le quotient :  $\frac{\text{Côté opposé}}{\text{Côté adjacent}} \left( T = \frac{O}{A} \right)$

Moyen mnémotechnique :

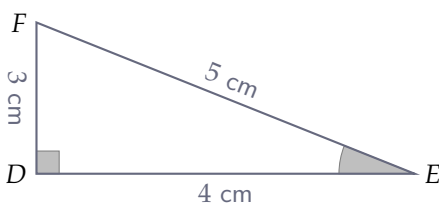
**SOH – CAH – TOA**

ou

**CAH – SOH – TOA**

Remarques importantes : Ces trois quotients ne dépendent que de la valeur de l'angle considéré !  
Et **sinus** et **cosinus** sont toujours compris **entre 0 et 1**.

☞ Exemple(s) :



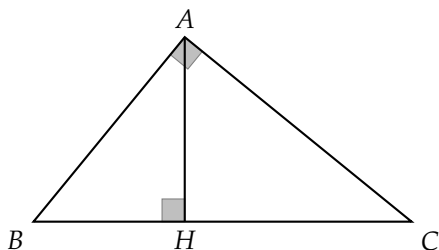
$$\sin(\widehat{DEF}) = \frac{O}{H} = \frac{DF}{EF} = \frac{3}{5} = 0,6$$

$$\cos(\widehat{DEF}) = \frac{A}{H} = \frac{DE}{EF} = \frac{4}{5} = 0,8$$

$$\tan(\widehat{DEF}) = \frac{O}{A} = \frac{DF}{DE} = \frac{3}{4} = 0,75$$

## Automatisme G03 : Reconnaître les différentes longueurs d'un triangle rectangle

### Exercice 1 :

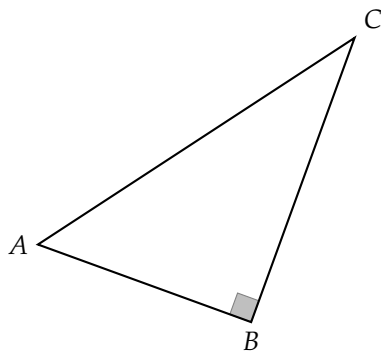


À partir de la figure ci-contre, donner :

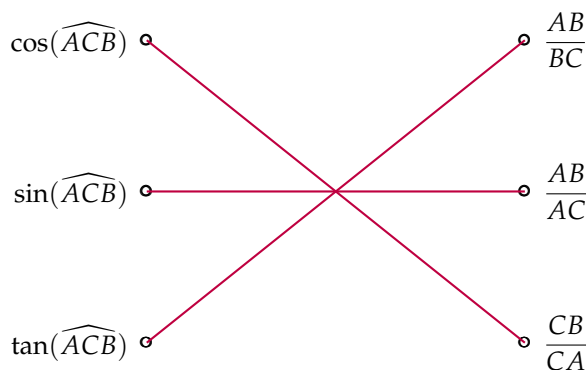
- ☞ Le côté adjacent à l'angle  $\widehat{ABC}$  dans le triangle  $ABH$  :  $BH$
- ☞ Le côté opposé à l'angle  $\widehat{ABC}$  dans le triangle  $ABH$  :  $AH$
- ☞ L'hypoténuse dans le triangle  $ABH$  :  $AB$
- ☞ Le côté adjacent à l'angle  $\widehat{ABC}$  dans le triangle  $ABC$  :  $AB$
- ☞ Le côté opposé à l'angle  $\widehat{ABC}$  dans le triangle  $ABC$  :  $AC$
- ☞ L'hypoténuse dans le triangle  $ABC$  :  $BC$

### Exercice 2 :

On considère le triangle suivant :

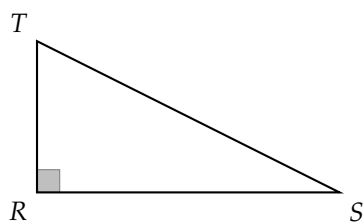


Associer chaque nombre de la colonne de gauche à une fraction :



### Exercice 3 :

Dans un triangle  $RST$  rectangle en  $R$ , est-il vrai que  $\sin(\widehat{RTS}) = \cos(\widehat{RST})$  ? Justifier.



$$\sin(\widehat{RTS}) = \frac{O}{H} = \frac{RS}{TS}$$

$$\cos(\widehat{RST}) = \frac{A}{H} = \frac{RS}{TS}$$

**Oui**, on a bien  $\sin(\widehat{RTS}) = \cos(\widehat{RST})$ . On pouvait s'en rendre compte plus simplement en remarquant que quand on considère les 2 angles aigus d'un triangle rectangle, le côté adjacent de l'un est le côté opposé de l'autre, et vice-versa. Donc le cos de l'un est égal au sin de l'autre (et les tangentes sont des inverses).

## Automatisme G04 : Calculer la longueur d'un côté avec la trigonométrie

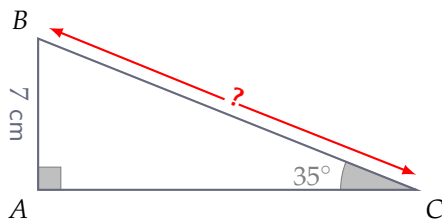
### ☞ Méthode 1 :

1. Faire un **schéma du triangle** en plaçant dessus toutes les informations connues.
2. Chercher (côté opposé, adjacent ou hypoténuse ?) **le côté connu** et **le côté recherché**.
3. Écrire **le bon rapport** (sinus, cosinus ou tangente ?) qui fait intervenir les deux côtés ciblés.
4. Résoudre l'égalité.

### ☞ Exemple(s) :

Soit  $ABC$  un triangle rectangle en  $A$ . On a  $AB = 7$  cm et  $\widehat{ACB} = 35^\circ$ . Calculer  $CB$  :

1. Schéma :



2. On connaît **le côté opposé** :  $AB$   
On cherche **l'hypoténuse** :  $BC$

3. On utilise donc **le sinus** : SOH

$$\sin(\widehat{ACB}) = \frac{AB}{BC}$$

4. On résoud :

$$\frac{\sin(35^\circ)}{1} = \frac{7 \text{ cm}}{BC}$$

$$BC = \frac{7 \text{ cm}}{\sin(35^\circ)} \approx 12,2 \text{ cm}$$

### ☞ Exercice 4 :

1) Dans le triangle  $ABC$  rectangle en  $B$  ci-contre, calculer la longueur  $AB$ . Arrondir le résultat au millimètre.

On connaît  $BC$ , **le côté adjacent** et on cherche  $AB$ , **le côté opposé**.

On utilise donc **la tangente (TOA)** :

$$\tan(\widehat{BCA}) = \frac{AB}{BC} \quad \text{donc} \quad \frac{\tan(37^\circ)}{1} = \frac{AB}{4 \text{ cm}}$$

$$AB = 4 \times \tan(37^\circ) \approx 3,0 \text{ cm}$$

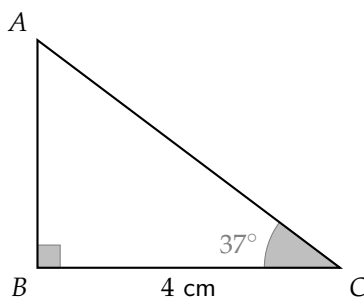
2) Dans le triangle  $ABC$  rectangle en  $B$  ci-contre, calculer la longueur  $AC$ . Arrondir le résultat au dixième près.

On connaît  $BC$ , **le côté adjacent** et on cherche  $AC$ , **l'hypoténuse**.

On utilise donc **le cosinus (CAH)** :

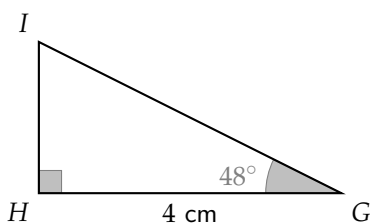
$$\cos(\widehat{BCA}) = \frac{BC}{AC} \quad \text{donc} \quad \frac{\cos(37^\circ)}{1} = \frac{4 \text{ cm}}{AC}$$

$$AB = \frac{4}{\cos(37^\circ)} \approx 5,0 \text{ cm}$$



🔗 **Exercice 5 :**

- 1) Un triangle  $GHI$  est rectangle en  $H$  tel que  $GH = 4$  cm et  $\widehat{HGI} = 48^\circ$ . Calculer la longueur  $HI$ , arrondir au millimètre.



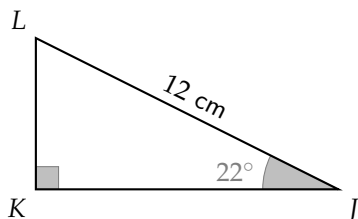
On connaît  $HG$ , le **côté adjacent** et on cherche  $HI$ , le **côté opposé**.

On utilise donc la **tangente (TOA)** :

$$\tan(\widehat{HGI}) = \frac{HI}{HG} \quad \text{donc} \quad \frac{\tan(48^\circ)}{1} = \frac{HI}{4 \text{ cm}}$$

$$HI = 4 \times \tan(48^\circ) \approx \mathbf{4,4 \text{ cm}}$$

- 2) Un triangle  $JKL$  est rectangle en  $K$  tel que  $JL = 12$  cm et  $\widehat{LJK} = 22^\circ$ . Calculer la longueur  $KL$ , arrondir au centième.



On connaît  $LJ$ , l'**hypoténuse** et on cherche  $KL$ , le **côté opposé**.

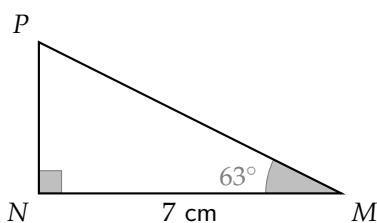
On utilise donc le **sinus (SOH)** :

$$\sin(\widehat{LJK}) = \frac{KL}{LJ} \quad \text{donc} \quad \frac{\sin(22^\circ)}{1} = \frac{KL}{12 \text{ cm}}$$

$$KL = 12 \times \sin(22^\circ) \approx \mathbf{4,50 \text{ cm}}$$

🔗 **Exercice 6 :**

- 1) Un triangle  $MNP$  est rectangle en  $N$  tel que  $MN = 7$  cm et  $\widehat{NMP} = 63^\circ$ . Calculer la longueur  $MP$ , arrondir au millimètre.



On connaît  $MN$ , le **côté adjacent** et on cherche  $MP$ , l'**hypoténuse**.

On utilise donc le **cosinus (CAH)** :

$$\cos(\widehat{NMP}) = \frac{MN}{MP} \quad \text{donc} \quad \frac{\cos(63^\circ)}{1} = \frac{7 \text{ cm}}{MP}$$

$$MP = \frac{7}{\cos(63^\circ)} \approx \mathbf{15,4 \text{ cm}}$$

- 2) Un triangle  $RST$  est rectangle en  $T$  tel que  $RT = 9$  cm et  $\widehat{TRS} = 75^\circ$ . Calculer toutes les longueurs de ce triangle, arrondir au dixième.

a. On calcule d'abord  $ST$  :

On connaît  $RT$ , le **côté adjacent** et on cherche  $ST$ , le **côté opposé**.

On utilise donc la **tangente (TOA)** :

$$\tan(\widehat{TRS}) = \frac{ST}{TR} \quad \text{donc} \quad \frac{\tan(75^\circ)}{1} = \frac{ST}{9 \text{ cm}}$$

$$ST = 9 \times \tan(75^\circ) \approx \mathbf{33,6 \text{ cm}}$$

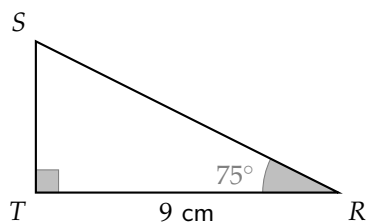
b. On calcule ensuite  $RS$  (remarque : on pourrait aussi utilise Pythagore là) :

On connaît  $RT$ , le **côté adjacent** et on cherche  $RS$ , l'**hypoténuse**.


On utilise donc le **cosinus (CAH)** :

$$\cos(\widehat{TRS}) = \frac{TR}{RS} \quad \text{donc} \quad \frac{\cos(75^\circ)}{1} = \frac{9 \text{ cm}}{RS}$$

$$RS = \frac{9}{\cos(75^\circ)} \approx \mathbf{34,8 \text{ cm}}$$



### Exercice 7 :



L'échelle d'un maçon est posée sur un mur de 4,5 m de haut. L'angle entre le sol et l'échelle est de  $73^\circ$  comme le montre le schéma.

**Calculer la longueur de l'échelle au cm près.**

On connaît  $BC$ , le **côté opposé**.

On cherche  $AC$ , l'**hypoténuse**.

On utilise donc le **sinus** (SOH) :

$$\sin(\widehat{BAC}) = \frac{BC}{AC}$$

$$\text{donc } \frac{\sin(73^\circ)}{1} = \frac{4,5 \text{ m}}{AC}$$


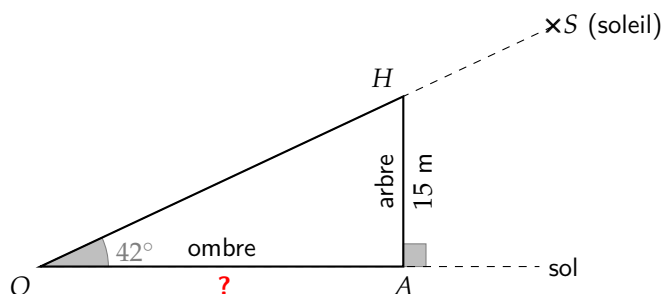
$$AC = \frac{4,5}{\sin(73^\circ)} \approx 4,71 \text{ m}$$

L'échelle mesure donc environ 4,71 m de long.

### Exercice 8 :

On cherche à déterminer la longueur de l'ombre d'un arbre de 15 m de haut projetée sur le sol lorsque le Soleil fait un angle de  $42^\circ$  avec l'horizontale.

1) Faire une figure à main levée de la situation :



2) Déterminer la longueur de l'ombre projetée. Arrondir à l'unité :

On connaît  $AH$ , le **côté opposé** et on cherche  $OA$ , le **côté adjacent**.

On utilise donc la **tangente** (TOA) :

$$\tan(\widehat{AOH}) = \frac{AH}{OA} \quad \text{donc} \quad \frac{\tan(42^\circ)}{1} = \frac{15 \text{ m}}{OA}$$

$$OA = \frac{15}{\tan(42^\circ)} \approx 17 \text{ m}$$

L'ombre projetée mesure donc environ 17 m de long.

## Leçon n°2 : Calcul littéral : Distributivité

### A) Développer un produit avec la distributivité simple

#### 📌 Définition 1 : Distributivité simple

Développer, c'est transformer un produit ( $\times$ ) et somme ( $+$ ).

#### 👉 Méthode 1 : Utiliser la distributivité simple

$$k \times (a + b) = k \times a + k \times b$$

$$k \times (a - b) = k \times a - k \times b$$

#### 📌 Exemple(s) :

Développer puis réduire les expressions ci-dessous :

$$H = 4(x + y)$$

$$I = 7(x + 3)$$

$$J = 2(3y + 5)$$

$$K = t(3t - 9)$$

$$H = 4x + 4y$$

$$I = 7x + 7 \times 3$$

$$J = 2 \times 3y + 2 \times 5$$

$$K = t \times 3t - t \times 9$$

$$I = 7x + 21$$

$$J = 6y + 10$$

$$K = 3t^2 - 9t$$

### B) Développer un produit avec la double distributivité

#### 📌 Propriété 1 : Double distributivité

$$(a + b) \times (c + d) = a c + a d + b c + b d$$

#### 📌 Exemple(s) :

Développer puis réduire des expressions ci-dessous :

$$L = (x + 3)(2 + y)$$

$$M = (2x + 3)(x + 8)$$

$$N = (x + 5)(x - 2)$$

$$L = 2x + xy + 3 \times 2 + 3y$$

$$M = 2x \times x + 2x \times 8 + 3 \times x + 3 \times 8$$

$$N = x^2 + 2 \times (-2) + 5x + 5 \times (-2)$$

$$L = 2x + xy + 6 + 3y$$

$$M = 2x^2 + 16x + 3x + 24$$

$$N = x^2 - 2x + 5x - 10$$

$$M = 2x^2 + 19x + 24$$

$$N = x^2 + 3x - 10$$

#### 📌 Propriété 2 : Cas particulier

$$(a + b)(a - b) = a^2 - b^2$$

#### ✳ Démonstration :

$$\begin{aligned} (a + b)(a - b) &= a^2 - a b + a b - b^2 \\ &= a^2 - b^2 \end{aligned}$$

#### 📌 Exemple(s) :

Développer puis réduire des expressions ci-dessous :

$$O = (x + 3)(x - 3)$$

$$P = (2x + y)(2x - y)$$

$$O = x^2 - 3^2$$

$$P = (2x)^2 - y^2$$

$$O = x^2 - 9$$

$$P = 4x^2 - y^2$$



## Automatisme N11 : Utiliser la distributivité simple

### Exercice 9 :

Associer chaque expression à son écriture développée et réduite :

$-4(y + 3) + 7y$	$3y^2 + 16y$
$11y + 9 + 6(7 - y)$	$19y^2 + 5y + 1$
$5y^2 - 2y(y - 8)$	$3y - 12$
$y^2 + 2y + 1 + 3y(6y + 1)$	$5y + 51$

### Exercice 10 :

**Développer** et **réduire** les expressions suivantes :

- 1)  $A = -3(x + 7) = -3x + (-3) \times 7 = -3x - 21$
- 2)  $B = 4(2x - 3) = 8x - 12$
- 3)  $C = -11(-x - 5) = 11x + 55$
- 4)  $D = x(2x + 9) = 2x^2 + 9x$
- 5)  $E = -3x(6 + 4x) = -18x - 12x^2$

### Exercice 11 :

**Développer** et **réduire** les expressions suivantes :

- 1)  $F = -2x(10 - 5x) = -20x + 10x^2$
- 2)  $G = 3(5 + x) = 15 + 3x$
- 3)  $H = 7(x - 8) = 7x - 56$
- 4)  $I = 10(y + 9) = 10y + 90$
- 5)  $J = x(6 - x) = 6x - x^2$

### Exercice 12 :

**Développer** et **réduire** les expressions suivantes :

- 1)  $10(4 + 3x) = 40 + 30x$
- 2)  $x(17 - 2x) = 17x - 2x^2$
- 3)  $8(1,5 + x + 6y) = 12 + 8x + 48y$
- 4)  $(x - y) \times 5 = 5x - 5y$

### Exercice 13 :

**Développer** et **réduire** les expressions suivantes :

- 1)  $-x(10 - 2y) = -10x + 2xy$
- 2)  $8y(-3 + 0,5x) = -24y + 4xy$
- 3)  $5x - 3(x + 12) = 5x - 3x - 36 = 2x - 36$

### Exercice 14 :

**Développer** et **réduire** les expressions suivantes :

- 1)  $A = 3x - 6 + 7(2x + 4) = 3x - 6 + 14x + 28 = 17x + 22$
- 2)  $B = 2x^2 + x(4x - 5) = 2x^2 + 4x^2 - 5x = 6x^2 - 5x$
- 3)  $C = 4x^2 - x + x(5x - 9) = 4x^2 - x + 5x^2 - 9x = 9x^2 - 10x$
- 4)  $D = 5(a + 2) - (6a - 7) = 5a + 10 - 6a + 7 = -a + 17$
- 5)  $E = -b(3b + 7) + (5 - b) \times b = -3b^2 - 7b + 5b - b^2 = -4b^2 - 2b$
- 6)  $F = -c(4 + 3c) - (9 - 2c + 6c^2) = -4c - 3c^2 - 9 + 2c - 6c^2 = -9c^2 - 2c - 9$
- 7)  $G = -5d + 5d(d - 2) - 6(7 - 3d) = -5d + 5d^2 - 10d - 42 + 18d = 5d^2 + 3d - 42$



## Automatisme N12 : Utiliser la distributivité double

### Exercice 15 :

Développer et réduire les expressions suivantes :

$$A = (2 + x)(15 - y) = 30 - 2y + 15x - xy$$

$$A = -xy + 15x - 2y + 30$$

$$B = (7 + y)(y - 4) = 7y - 28 + y^2 - 4y$$

$$B = y^2 + 3y - 28$$

$$C = (z - 25)(x + z) = xz + z^2 - 25x - 25z$$

$$C = z^2 + xz - 25x - 25z$$

$$D = (t - 3)(t - 13) = t^2 - 13t - 3t + 39$$

$$D = t^2 - 16t + 39$$

$$E = (x + 3)(x + 2) = x^2 + 2x + 3x + 6$$

$$E = x^2 + 5x + 6$$

$$F = (x - 7)(x + 9) = x^2 + 9x - 7x - 63$$

$$F = x^2 + 2x - 63$$

$$G = (x - 3)(4 - x) = 4x - x^2 - 12 + 3x$$

$$G = -x^2 + 7x - 12$$

$$H = (3x + 4)(5x - 7) = 15x^2 - 21x + 20x - 28$$

$$H = 15x^2 - x - 28$$

$$I = (k + 4)(k - 4) = k^2 + 4k - 4k - 16$$

$$I = k^2 - 16$$

### Exercice 16 :

Développer et réduire les expressions suivantes :

$$A = (x + 5)(10 + 7x) = 10x + 7x^2 + 50 + 35x$$

$$A = 7x^2 + 45x + 50$$

$$B = (5 - 9x)(2x + 8) = 10x + 40 - 18x^2 - 72x$$

$$B = -18x^2 - 62x + 40$$

$$C = (9 - 3y)(6 - 5y) = 54 - 45y - 18y + 15y^2$$

$$C = 15y^2 - 63y + 54$$

$$D = (2x - 3)(7 - x) = 14x - 2x^2 - 21 + 3x$$

$$D = -2x^2 + 17x - 21$$

$$E = (x + y)(2x - y) = 2x^2 - xy + 2xy - y^2$$

$$E = 2x^2 + xy - y^2$$

$$F = (x - 7)(2 + y) = 2x + xy - 14 - 7y$$

$$F = 2x - 7y + xy - 14$$

$$G = (x - 1)(1 - x) = x - x^2 - 1 + x$$

$$G = x^2 + 2x - 1$$

$$H = 3(3a + 4)^2 = 3(3a + 4)(3a + 4)$$

$$H = 3(9a^2 + 12a + 12a + 16)$$

$$H = 3(9a^2 + 24a + 16)$$

$$H = 27a^2 + 72a + 48$$

## Automatisme N13 : Utiliser les identités remarquables pour distribuer

### Exercice 17 :

Développer les expressions suivantes en donnant directement le résultat :

$$A = (2a - 9)(2a + 9)$$

$$A = 4a^2 - 81$$

$$B = (2z - 8)(2z + 8)$$

$$B = 4z^2 - 64$$

$$C = (4z - 3)(4z + 3)$$

$$C = 16z^2 - 9$$

$$D = (8y - 1)(8y + 1)$$

$$D = 64y^2 - 1$$

$$E = (4 - 6a^2)(4 + 6a^2)$$

$$E = 16 - 36a^4$$

$$F = (3b^3 - 2)(3b^3 + 2)$$

$$F = 9b^6 - 4$$

$$G = (9 - x)(9 + x)$$





$$G = 81 - x^2$$

$$A = (y^2 - 5)(y^2 + 5)$$

$$A = y^4 - 25$$

## Tâche complexe : Carrés bordés

Pierre joue avec des carreaux de mosaïque. Il dispose ses carreaux gris autour de différents carrés formés de carreaux blancs. En voici quatre :

Carré **Taille 1**Carré **Taille 2**Carré **Taille 3**Carré **Taille 7**

1) Combien y a-t-il de carreaux gris entourant le carré **Taille 1** ? Celui **Taille 2** ? Celui **Taille 3** ?

- ☞ Carré **Taille 1** : 8 carreaux gris ;
- ☞ Carré **Taille 2** : 12 carreaux gris ;
- ☞ Carré **Taille 3** : 16 carreaux gris.

2) Trouver un calcul qui donne le nombre de carreaux gris entourant le carré **Taille 7**, puis de **Taille 56** :

- ☞ Carré **Taille 7** : 32 carreaux gris ;
- ☞ Carré **Taille 56** : 228 carreaux gris.

3) Chercher une formule qui permet de connaître le nombre de carreaux gris à partir de la taille du carré blanc :

Exemples de formules possibles ( $n$  désigne la taille du carré blanc et  $N$  le nombre de carreaux gris qui l'entourent) :

- ☞  $N = 4n + 4$  ;
- ☞  $N = 2n + 2(n + 2)$  ;
- ☞  $N = 2(n + 1) + n + n + 2$  ;
- ☞  $N = (n + 2)^2 - n^2$ .

4) Note les autres réponses proposées dans la classe, et démontre qu'elles reviennent au même :

Distribuer, simplifier et réduire les différentes formules.

## Leçon n°3 : Statistiques : Fréquences et moyennes

### A) Fréquences

#### 📌 Définition 1 : Effectif

L'effectif d'une valeur est le nombre de fois où elle apparaît dans la liste. L'effectif total est la somme des effectifs.

#### 📌 Définition 2 : Fréquence

La fréquence  $f$  d'une valeur est un **nombre compris entre 0 et 1** qui mesure la proportion de cette valeur dans l'effectif total :

$$f = \frac{\text{Effectif de la valeur}}{\text{Effectif total}}$$

On préfère souvent donner la fréquence en pourcentage (en multipliant par 100).

#### 📌 Propriété 1 : Somme des fréquences

La somme de toutes les fréquences est égale à 1.

#### 📌 Exemple(s) :

Dans une classe, on a demandé aux élèves leur couleur préférée, et voici les résultats :

\* jaune \* vert \* rouge \* vert \* noir \* bleu \* bleu \* noir \* jaune \*  
 \* vert \* noir \* rose \* bleu \* jaune \* jaune \* noir \* rose \*  
 \* noir \* jaune \* bleu \* jaune \* jaune \* jaune \* rose \* rose \*

Remplis le tableau ci-dessous :

Couleur	BLEU	VERT	ROUGE	JAUNE	ROSE	NOIR	Total
Effectif	4	3	1	8	4	5	25
Fréquence	$\frac{4}{25} = 0,16$	$\frac{3}{25} = 0,12$	$\frac{1}{25} = 0,04$	$\frac{8}{25} = 0,32$	$\frac{4}{25} = 0,16$	$\frac{5}{25} = 0,2$	1
Fréquence (en %)	$0,16 \times 100 = 16$	$0,12 \times 100 = 12$	$0,04 \times 100 = 4$	$0,32 \times 100 = 32$	$0,16 \times 100 = 16$	$0,2 \times 100 = 20$	100

### B) Moyenne simple

#### 📌 Exemple(s) :

#### 📌 Propriété 2 : Moyenne simple

$$\text{Moyenne simple} = \frac{\text{Somme des valeurs}}{\text{Effectif total}}$$

Voici les prix des bijoux portés par Marina : 12,5 € - 25 € - 30 € - 8 € - 52 €.

Quel est le prix moyen de ses bijoux ?

$$\text{Prix moyen} = \frac{12,5 + 25 + 30 + 8 + 52}{5} = \frac{127,5}{5} = 25,5$$

Le prix moyen des bijoux portés par Marina est de **25,5 €**.

## Automatisme D06 : Compléter un tableau de fréquences

### 👉 Exercice 18 :

Les élèves d'une classe sont répartis de la façon suivante :

Sexe	Filles	Garçons
Effectif	16	9

1) Calculer la fréquence des filles dans la classe.

$$f = \frac{16}{16+9} = \frac{16}{25} = 0,64$$

La fréquence de filles dans la classe est de **0,64**.

2) **En déduire** celle des garçons.

On sait que la somme des fréquences vaut toujours 1.

On doit donc avoir :  $f_{\text{filles}} + f_{\text{garçons}} = 1$ , et donc  $0,64 + f_{\text{garçons}} = 1$ .

On a donc  $f_{\text{garçons}} = 1 - 0,64 = 0,36$  La fréquence de garçons dans la classe est de **0,36**.

### 👉 Exercice 19 :

Dans un magazine on lit les données suivantes :

Destination préférée	Mer	Montagne	Campagne
Effectif	636	264	300

1) Calculer la fréquence de personnes préférant :

a. partir à la mer.

$$f = \frac{636}{636 + 264 + 300} = \frac{636}{1\,200} = 0,53$$

La fréquence de personnes préférant partir à la mer est de **0,53**.

b. partir à la montagne.

$$f = \frac{264}{636 + 264 + 300} = \frac{264}{1\,200} = 0,22$$

La fréquence de personnes préférant partir à la montagne est de **0,22**.

2) **En déduire** celle des personnes préférant partir à la campagne.

On sait que la somme des fréquences vaut toujours 1.

On doit donc avoir :  $f_{\text{mer}} + f_{\text{montagne}} + f_{\text{campagne}} = 1$ , et donc  $0,53 + 0,22 + f_{\text{campagne}} = 1$ .

On a donc  $f_{\text{campagne}} = 1 - (0,53 + 0,22) = 1 - 0,75 = 0,25$  La fréquence de personnes préférant partir à la campagne est de **0,25**.

### 👉 Exercice 20 :

1) Dans une classe, on a fait un sondage pour connaître la matière préférée de chaque élève. Complète le tableau suivant :

MATIÈRE	Maths	Français	Histoire-Géo	SVT	P-C	Anglais	Espagnol	Arts Pla.	EPS	Musique	TOTAL
Effectif	6	3	1	2	0	4	5	1	2	1	<b>25</b>
Fréq. (0-1)	0,24	0,12	0,04	0,08	0	0,16	0,2	0,04	0,08	0,04	1
Fréq. (%)	24	12	4	8	0	16	20	4	8	4	100

⚠️ L'exercice continue en p.6! ⚠️

2) Dans une entreprise, la fréquence de femmes est de 0,56.

a. Quelle est la fréquence d'hommes ?

On sait que la somme des fréquences vaut toujours 1.

On doit donc avoir :  $f_{\text{femmes}} + f_{\text{hommes}} = 1$ , et donc  $0,56 + f_{\text{hommes}} = 1$ .

On a donc  $f_{\text{hommes}} = 1 - 0,56 = 0,44$  La fréquence d'hommes dans cette entreprise est de **0,44**.

b. S'il y a en tout 250 employés dans cette entreprise, combien sont des femmes ?

On sait que la fréquence de femmes dans cette entreprise est 0,56. Il y a donc 56 % de femmes.

$$56\% \text{ de } 250 = \frac{56}{100} \times 250 = 140$$

Il y a donc 140 femmes dans cette entreprise.

### Exercice 21 :

1) Voici la liste des notes d'une classe de 20 élèves :

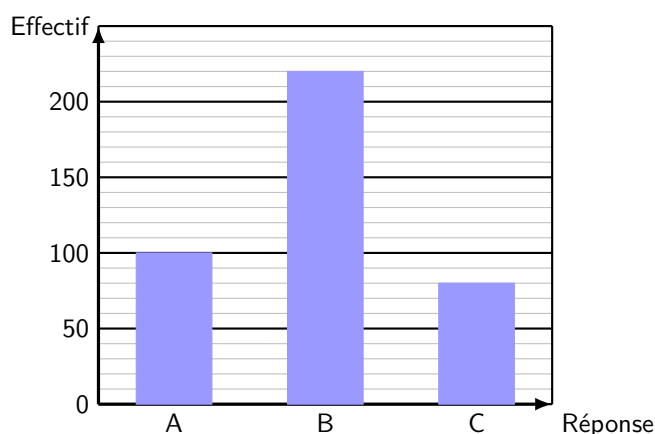
6; 16; 18; 19; 11; 14; 19; 13; 14; 14; 6; 19; 14; 17; 16; 17; 11; 12; 20; 18

Compléter le tableau ci-dessous :

Notes	6	11	12	13	14	16	17	18	19	20	Total
Effectifs	2	2	1	1	4	2	2	2	3	1	20
Fréquences	0,1	0,1	0,05	0,05	0,2	0,1	0,1	0,1	0,15	0,05	1
Fréquences en %	10 %	10 %	5 %	5 %	20 %	10 %	10 %	10 %	15 %	5 %	100 %

### Exercice 22 :

Au cours d'un jeu télévisé, le public répond à une question à choix multiple de la façon suivante :



1) Quelle est la fréquence de la réponse A exprimée en écriture décimale ?

$$f_A = \frac{100}{100 + 220 + 80} = \frac{100}{400} = 0,25$$

2) Quelle est la fréquence de la réponse B exprimée sous forme fractionnaire ?

$$f_B = \frac{220}{100 + 220 + 80} = \frac{220}{400} = \frac{55}{100} = \frac{11}{20}$$

3) Quelle est la fréquence de la réponse C exprimée en pourcentage ?

$$f_C = \frac{80}{100 + 220 + 80} = \frac{80}{400} = 0,2 = 20 \%$$

## Automatisme D07 : Calculer une moyenne simple

### Exercice 23 :

Voici les tailles des sœurs d'une même famille :

175 cm	123 cm	155 cm	159 cm
--------	--------	--------	--------

Quelle est la moyenne de leurs tailles ?

$$\text{Moyenne} = \frac{175 + 123 + 155 + 159}{4} = \frac{612}{4} = 153$$

La taille moyenne des sœurs de cette famille est de **153 cm**.

### Exercice 24 :

Pour s'habiller, Tom a mis un jean à 25 €, un t-shirt à 7 €, un pull à 32 €, un bonnet à 13 € et des chaussures à 74 €. Quelle est la moyenne des prix des habits qui composent sa tenue ?

$$\text{Moyenne} = \frac{25 + 7 + 32 + 13 + 74}{5} = \frac{151}{5} = 30,2$$

Les habits qui composent la tenue de Tom coûtent en moyenne **30,20 €**.

### Exercice 25 :

1) En septembre 1992, à Paris, on a relevé les températures suivantes (voir tableau ci-dessous). Calculer la moyenne des températures arrondie au dixième.

Jour	1	2	3	4	5	6	7	8	9	10	11	12	13	14	15
Température en °C	20	22	23	24	22	22	21	21	21	22	23	25	23	21	22
Jour	16	17	18	19	20	21	22	23	24	25	26	27	28	29	30
Température en °C	20	22	22	21	20	18	19	21	19	17	15	15	16	17	19

$$\text{Moyenne} = \frac{20 + 22 + 23 + \dots + 16 + 17 + 19}{30} = \frac{613}{30}$$

La somme des températures est : 613.

Il y a 30 températures.

Donc la moyenne des températures est  $\frac{613}{30} \approx 20,4$  °C.

2) Karim a obtenu ces notes ce trimestre-ci en mathématiques :

13 ; 17 ; 10 ; 5 ; 4 ; 8 ; 9 et 3.

Calculer la moyenne de ces notes arrondie au dixième.

$$\text{Moyenne} = \frac{13 + 17 + 10 + 5 + 4 + 8 + 9 + 3}{8} = \frac{69}{8} = 8,625 \approx 8,6$$

Donc la moyenne des notes est d'environ **8,6**.

## Vers le DNB

## Exercice 26 - d'après Polynésie Juin 2011 (exercice n°2) :

Voici, pour la production de l'année 2009, le relevé des longueurs des gousses de vanille d'un cultivateur de Tahaa :

Longueur en cm	12	15	17	22	23
Effectif	600	800	1 800	1 200	600

1) Quel est l'effectif de cette production ?

$$600 + 800 + 1\,800 + 1\,200 + 600 = 5\,000$$

**Il a produit 5 000 gousses de vanille.**

2) Le cultivateur peut seulement les conditionner dans des tubes de 20 cm de long. Quel pourcentage de cette production a-t-il pu conditionner sans plier les gousses ?

Il y a  $600 + 800 + 1\,800 = 3\,200$  gousses qui font moins de 20 cm :

Non pliées	3 200	$x$
Total	5 000	100

$$x = \frac{3\,200 \times 100}{5\,000} = 64, \text{ il a donc pu mettre } \mathbf{64\% \text{ des gousses sans les plier.}}$$

3) La chambre d'agriculture décerne une récompense (un « label de qualité ») aux agriculteurs si :

- ☞ la longueur moyenne des gousses de leur production est supérieure ou égale à 16,5 cm ;
- ☞ et plus de la moitié des gousses de leur production a une taille supérieure à 17,5 cm.

Ce cultivateur pourra-t-il recevoir ce « label de qualité » ?

**Il n'a que  $1\,200 + 600 = 1\,800$  de gousses dépassant 17,5 cm, soit moins de la moitié. Il ne satisfait donc pas le deuxième critère et n'aura pas le label.**

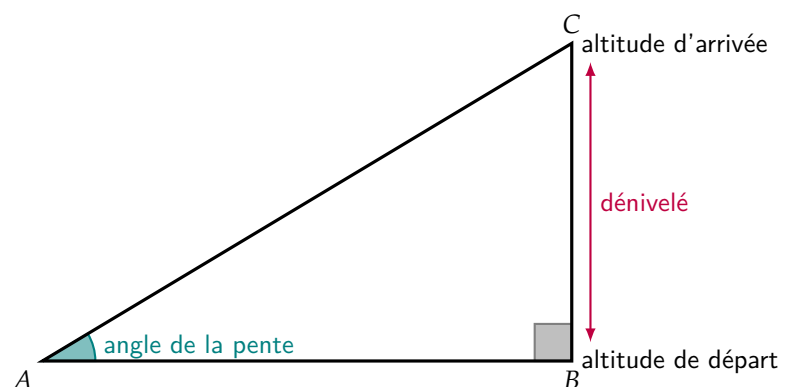
## Exercice 27 - d'après Métropole Septembre 2018 (exercice n°7 - 12 points) :

Pour la course à pied en montagne, certains sportifs mesurent leur performance par la **vitesse ascensionnelle**, notée  $V_a$ .

$V_a$  est le quotient du dénivelé de la course, exprimé en mètres, par la durée, exprimée en heure.

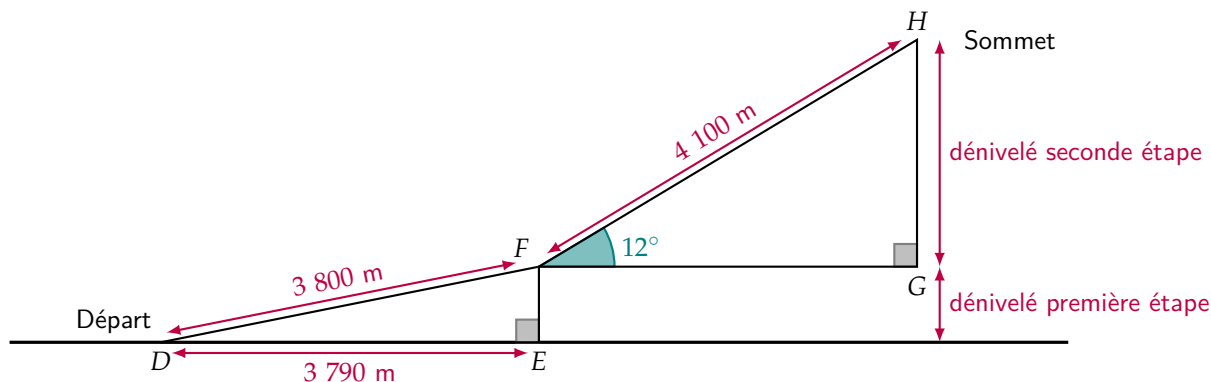
Par exemple : pour un dénivelé de 4 500 m et une durée de parcours de 3 h :  $V_a = 1\,500$  m/h.

Rappel : le dénivelé de la course est la différence entre l'altitude à l'arrivée et l'altitude au départ.



Un coureur de haut niveau souhaite atteindre une vitesse ascensionnelle d'au moins 1 400 m/h lors de sa prochaine course.

La figure ci-dessous n'est pas représentée en vraie grandeur.



Le parcours se décompose en deux étapes :

- ☞ Première étape de 3 800 m pour un déplacement horizontal de 3 790 m ;
- ☞ Seconde étape de 4,1 km avec un angle de pente d'environ  $12^\circ$ .

1) Vérifier que le dénivelé de la première étape est environ 275,5 m.

Le triangle  $DEF$  est rectangle en  $E$ , donc d'après le théorème de Pythagore :

$$\begin{aligned} DF^2 &= DE^2 + EF^2 \\ 3\,800^2 &= 3\,790^2 + EF^2 \\ 14\,440\,000 &= 14\,364\,100 + EF^2 \\ EF^2 &= 14\,440\,000 - 14\,364\,100 = 75\,900 \\ EF &= \sqrt{75\,900} \approx 275,5 \text{ m} \end{aligned}$$

On obtient bien le résultat recherché.

2) Quel est le dénivelé de la seconde étape ?

Dans le triangle  $FGH$  rectangle en  $G$  :

- ☞ On connaît l'**hypoténuse**  $FH$  ;
- ☞ On cherche le **côté opposé**  $GH$  ;

On utilise donc le **sinus** :

$$\sin(\widehat{GFH}) = \frac{GH}{FH} \quad \text{soit} \quad \frac{\sin(12^\circ)}{1} = \frac{GH}{4\,100}$$

D'où  $GH = 4\,100 \times \sin(12^\circ) \approx 852,4$  m environ.

3) Depuis le départ, le coureur met 48 min pour arriver au sommet. A-t-il atteint son objectif ?

Le dénivelé total est donc de  $275,5 + 852,4 = 1\,127,9$  m pour un temps de 48 min  $= \frac{48}{60} = 0,8$  h.

La vitesse ascensionnelle est donc de :

$$V_a = \frac{1\,127,9}{0,8} \approx 1\,409,9 \text{ m/h} > 1\,400 \text{ m/h}$$

Le coureur a bien atteint son objectif.